

2010 年全国普通高等学校招生统一考试

上海物理试卷 解析

本试卷分为第 I 卷(第 1~4 页)和第 II 卷(第 5~10 页)两部分。全卷共 10 页。满分 150 分,考试时间 120 分钟。

第 I 卷 (共 56 分)

考生注意:

1. 答第 I 卷前,考生务必在答题卡上用钢笔或圆珠笔清楚填写姓名、准考证号、校验码,并用 2B 铅笔正确涂写准考证号和校验码。
2. 第 I 卷(1—20 小题),由机器阅卷,答案必须:全部涂写在答题卡上。考生应将代表正确答案的小方格用 2B 铅笔涂黑。注意答题纸编号与试题题号一一对应,不能错位。答案需要更改时,必须将原选项用橡皮擦去,重新选择。答案不能涂写在试卷上,涂写在试卷上一律不得分。

一、单项选择题(共 16 分,每小题 2 分。每小题只有一个正确选项。答案涂写在答题卡上。)

1. 卢瑟福提出了原子的核式结构模型,这一模型建立的基础是

- (A) α 粒子的散射实验 (B) 对阴极射线的研究
(C) 天然放射性现象的发现 (D) 质子的发现

答案: A


解析: 卢瑟福根据 α 粒子的散射实验结果,提出了原子的核式结构模型:原子核聚集了原子的全部正电荷和几乎全部质量,电子在核外绕核运转。

本题考查原子的核式结构的建立。

难度: 易。

2. 利用发波水槽得到的水面波形如 a, b 所示, 则

- (A) 图 a、b 均显示了波的干涉现象
(B) 图 a、b 均显示了波的衍射现象
(C) 图 a 显示了波的干涉现象, 图 b 显示了波的衍射现象
(D) 图 a 显示了波的衍射现象, 图 b 显示了波的干涉现象



【解析】D

本题考查波的干涉和衍射。难度: 易。

3. 声波能绕过某一建筑物传播而光波却不能绕过该建筑物，这是因为

- (A) 声波是纵波，光波是横波 (B) 声波振幅大，光波振幅小
(C) 声波波长较长，光波波长很短 (D) 声波波速较小，光波波速很大

【解析】C

本题考查波的衍射条件：障碍物与波长相差不多。难度：易。

4. 现已建成的核电站的能量来自于

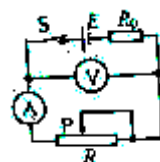
- (A) 天然放射性元素衰变放出的能量 (B) 人工放射性同位素放出的能量
(C) 重核裂变放出的能量 (D) 化学反应放出的能量

【解析】C

本题考查原子核反应。难度：易。

5. 在右图的闭合电路中，当滑片 P 向右移动时，两电表读数的变化是

- (A) A 变大， V 变大 (B) A 变小， V 变大
(C) A 变大， V 变小 (D) A 变小， V 变小



【解析】B

电阻变大，电流变小，电压变大。

6. 根据爱因斯坦光子说，光子能量 E 等于 (h 为普朗克常量， c 、 λ 为真空中的光速和波长)

- (A) $h \frac{c}{\lambda}$ (B) $h \frac{\lambda}{c}$ (C) $h\lambda$ (D) $\frac{h}{\lambda}$

答案：A

解析： $E = h\nu = h \frac{c}{\lambda}$ 。

本题考查光子能量公式和光速公式。

难度：易。

7. 电磁波包含了 γ 射线、红外线、紫外线、无线电波等，按波长由长到短的排列顺序是

- (A) 无线电波、红外线、紫外线、 γ 射线
(B) 红外线、无线电波、 γ 射线、紫外线
(C) γ 射线、红外线、紫外线、无线电波
(D) 紫外线、无线电波、 γ 射线、红外线

【解析】A

本题考查电磁波普。难度：易。

8. 某放射性元素经过 11.4 天有 $\frac{7}{8}$ 的原子核发生了衰变，该元素的半衰期为

- (A) 11.4 天 (B) 7.6 天 (C) 5.7 天 (D) 3.8 天

答案：D

解析：根据 $\left(\frac{1}{2}\right)^{\frac{t}{\tau}} = \frac{1}{8}$ ， $\frac{t}{\tau} = 3$ ，因为 $t=11.4\text{day}$ ，所以 $\tau = \frac{11.4}{3} = 3.8\text{day}$ ，选 D。

本题考查原子核半衰期的计算。

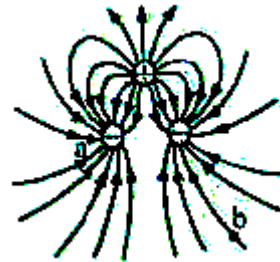
难度：中等。

二、单项选择题（共 24 分，每小题 3 分。每小题只有一个正确选项。答案涂写在答题卡上。）

9. 三个点电荷电场的电场线分布如图所示，图中 a、b 两点出的场强

大小分别为 E_a 、 E_b ，电势分别为 φ_a 、 φ_b ，则


- (A) $E_a > E_b$ ， $\varphi_a > \varphi_b$
(B) $E_a < E_b$ ， $\varphi_a < \varphi_b$
(C) $E_a > E_b$ ， $\varphi_a < \varphi_b$
(D) $E_a < E_b$ ， $\varphi_a > \varphi_b$



【解析】根据电场线的疏密表示场强大小，沿电场线电势降落（最快），选 C。本题考查电场线与场强与电势的关系。难度：易。

10. 如图，玻璃管内封闭了一段气体，气柱长度为 l ，管内外水银面高度差为 h ，若温度保守不变，把玻璃管稍向上提起一段距离，则

- (A) h, l 均变大 (B) h, l 均变小
(C) h 变大 l 变小 (D) h 变小 l 变大



【解析】根据 $pl = c$ ， l 变大， p 变小，根据 $p = p_0 - \rho gh$ ， h 变大，选 D。

本题考查气体状态方程。难度：中等。

11. 将一个物体以某一速度从地面竖直向上抛出，设物体在运动过程中所受空气阻力大小不变，则物体

- (A) 刚抛出时的速度最大 (B) 在最高点的加速度为零
(C) 上升时间大于下落时间 (D) 上升时的加速度等于下落时的加速度

【解析】 $a_{\text{上}} = g + \frac{f}{m}$ ， $a_{\text{下}} = g - \frac{f}{m}$ ，所以上升时的加速度大于下落时的加速度，D 错误；

根据 $h = \frac{1}{2}gt^2$ ，上升时间小于下落时间，C 错误，B 也错误，本题选 A。

本题考查牛顿运动定律和运动学公式。难度：中。

12. 降落伞在匀速下降过程中遇到水平方向吹来的风，若风速越大，则降落伞

- (A) 下落的时间越短
- (B) 下落的时间越长
- (C) 落地时速度越小
- (D) 落地时速度越大

【解析】 根据 $H = \frac{1}{2}gt^2$ ，下落的时间不变；

根据 $v = \sqrt{v_x^2 + v_y^2}$ ，若风速越大， v_x 越大，则降落伞落地时速度越大；

本题选 D。

本题考查运动的合成和分解。

难度：中等。

13. 如图，长为 $2l$ 的直导线拆成边长相等，夹角为 60° 的 V 形，并置于与其所在平面相垂直的匀强磁场中，磁感应强度为 B ，当在该导线中通以电流强度为 I 的电流时，该 V 形通电导线受到的安培力大小为



- (A) 0
- (B) $0.5BIl$
- (C) BIl
- (D) $2BIl$

答案：C

解析：导线有效长度为 $2l\sin30^\circ = l$ ，所以该 V 形通电导线收到的安培力大小为 BIl 。选 C。

本题考查安培力大小的计算。

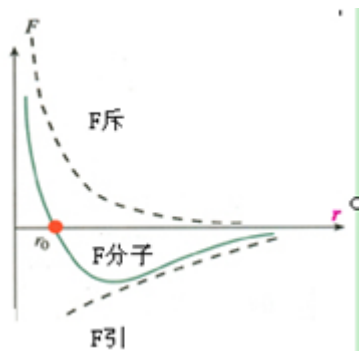
难度：易。

14. 分子间的相互作用力由引力与斥力共同产生，并随着分子间距的变化而变化，则

- (A) 分子间引力随分子间距的增大而增大
- (B) 分子间斥力随分子间距的减小而增大
- (C) 分子间相互作用力随分子间距的增大而增大
- (D) 分子间相互作用力随分子间距的减小而增大

答案：B

解析：根据分子力和分子间距离关系图象，如图，选 B。



本题考查分子间相互作用力随分子间距的变化，图象的理解。

难度：中等。

15. 月球绕地球做匀速圆周运动的向心加速度大小为 a ，设月球表面的重力加速度大小为 g_1 ，在月球绕地球运行的轨道处由地球引力产生的加速度大小为 g_2 ，则

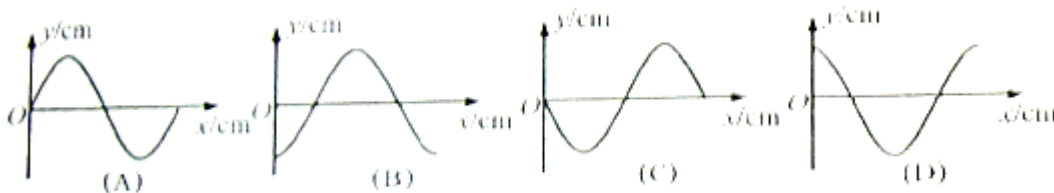
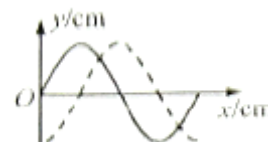
- (A) $g_1 = a$ (B) $g_2 = a$ (C) $g_1 + g_2 = a$ (D) $g_2 - g_1 = a$

【解析】

根据月球绕地球做匀速圆周运动的向心力由地球引力提供，选 B。

本题考查万有引力定律和圆周运动。难度：中等。这个题出的好。

16. 如右图，一列简谐横波沿 x 轴正方向传播，实线和虚线分别表示 $t_1=0s$ ， $t_2=0.5s(T>0.5s)$ 时的波形，能正确反映 $t_3=7.5s$ 时波形的是图



答案：D

解析：因为 $t_2 < T$ ，可确定波在 $0.5s$ 的时间沿 x 轴正方向传播 $\frac{1}{4}\lambda$ ，即 $\frac{1}{4}T = 0.5s$ ，所以

$T=2s$ ， $t_3 = 7.5s = 3\frac{3}{4}T$ ，波峰沿 x 轴正方向传播 $\frac{3}{4}\lambda$ ，从 $\frac{1}{4}\lambda$ 处到 λ 处，选 D。

本题考查波的传播及波长、周期等。

难度：中等。

三、多项选择题（共 16 分，每小题 4 分。每小题有二个或三个正确选项。全选对的，得 4

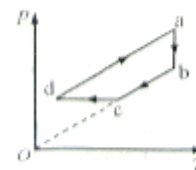
分；选对但不全的，得 2 分；有选错或不答的，得 0 分。答案涂写杂答题卡上。)

17. 一定质量理想气体的状态经历了如图所示的 ab 、 bc 、 cd 、 da 四

个过程，其中 bc 的延长线通过原点， cd 垂直于 ab 且与水平轴平行，

da 与 bc 平行，则

气体体积在



(A) ab 过程中不断增加

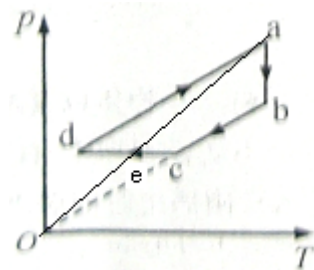
(B) bc 过程中保持不变

(C) cd 过程中不断增加

(D) da 过程中保持不变

【解析】首先，因为 bc 的延长线通过原点，所以 bc 是等容线，即气体体积在 bc 过程中保持不变，B 正确； ab 是等温线，压强减小则体积增大，A 正确； cd 是等压线，温度降低则体积减小，C 错误；连接 ao 交 cd 于 e ，则 ae 是等容线，即 $V_a = V_e$ ，因为 $V_d < V_e$ ，所以

$V_d < V_a$ ，所以 da 过程中体积不是保持不变，D 错误；本题选 AB。



本题考查气体的 $P-T$ 图象的理解。难度：中等。对 D，需要作辅助线，较难。

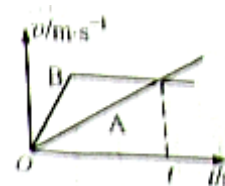
18. 如图为质量相等的两个质点 A、B 在同一直线上运动的 $v-t$ 图像，由图可知

(A) 在 t 时刻两个质点在同一位置

(B) 在 t 时刻两个质点速度相等

(C) 在 $0-t$ 时间内质点 B 比质点 A 位移大

(D) 在 $0-t$ 时间内合外力对两个质点做功相等



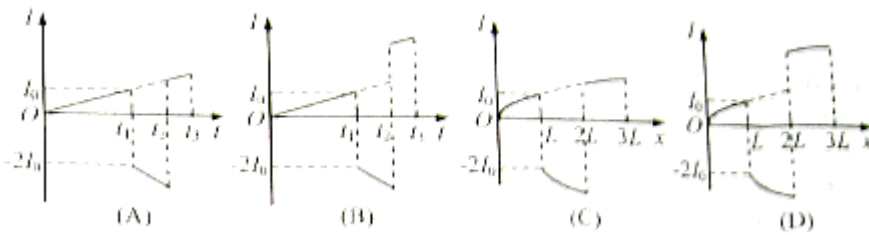
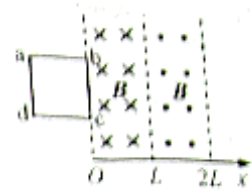
答案：BCD

解析：首先，B 正确；根据位移由 $v-t$ 图像中面积表示，在 $0-t$ 时间内质点 B 比质点 A 位移大，C 正确而 A 错误；根据动能定理，合外力对质点做功等于动能的变化，D 正确；本题选 BCD。

本题考查 $v-t$ 图象的理解和动能定理。对 D，如果根据 $W=Fs$ 则难判断。

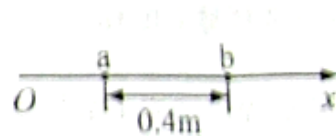
难度：中等。

19. 如右图，一有界区域内，存在着磁感应强度大小均为 B ，方向分别垂直于光滑水平桌面向下和向上的匀强磁场，磁场宽度均为 L ，边长为 L 的正方形框 $abcd$ 的 bc 边紧靠磁场边缘置于桌面上，使线框从静止开始沿 x 轴正方向匀加速通过磁场区域，若以逆时针方向为电流的正方向，能反映线框中感应电流变化规律的是图

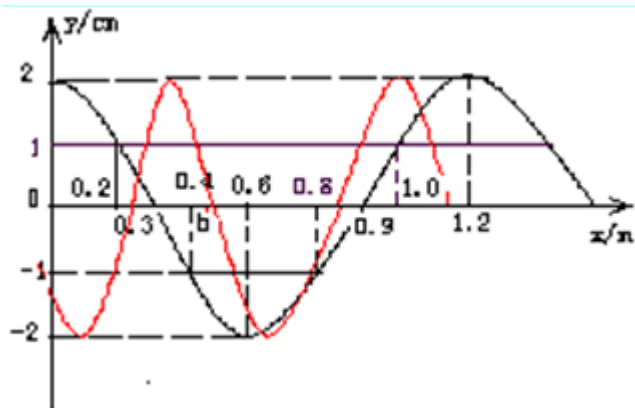


答案：AC

20. 如图，一列沿 x 轴正方向传播的简谐横波，振幅为 2cm ，波速为 2m/s ，在波的传播方向上两质点 a, b 的平衡位置相距 0.4m （小于一个波长），当质点 a 在波峰位置时，质点 b 在 x 轴下方与 x 轴相距 1cm 的位置，则



- (A) 此波的周期可能为 0.6s
- (B) 此波的周期可能为 1.2s
- (C) 从此时刻起经过 0.5s ， b 点可能在波谷位置
- (D) 从此时刻起经过 0.5s ， b 点可能在波峰位置

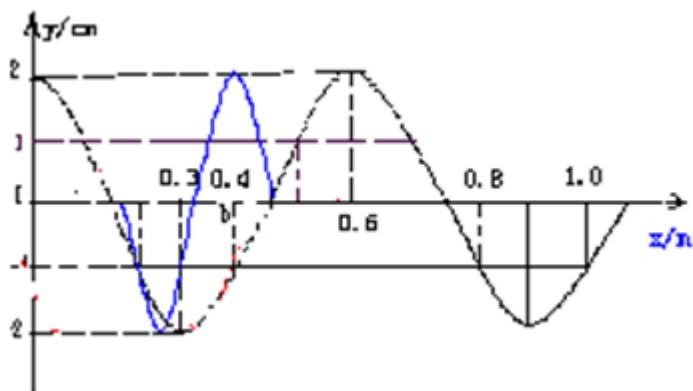


解析：如上图， $\left(\frac{1}{4} + \frac{1}{12}\right)\lambda = 0.4$ ， $\lambda = 1.2$ 。根据 $v = \frac{\lambda}{T}$ ， $T = \frac{\lambda}{v} = \frac{1.2}{2} = 0.6s$ ，A 正确，

从此时刻起经过 $0.5s$ ，即 $\frac{5}{6}T$ ，波沿 x 轴正方向传播 $\frac{5}{6}\lambda = 1.0m$ ，波峰到 $x=1.2m$ 处，C 正确。

如下图， $\left(\frac{1}{2} + \frac{1}{4} + \frac{1}{12}\right)\lambda = 0.4$ ， $\lambda = 0.6m$ ，根据 $v = \frac{\lambda}{T}$ ， $T = \frac{\lambda}{v} = \frac{0.6}{2} = 0.3s$ ，B 错误；

从此时刻起经过 $0.5s$ ，即 $\frac{5}{3}T$ ，波沿 x 轴正方向传播 $\frac{5}{3}\lambda = 1.0m$ ，波峰到 $x=1.0m$ 处， $x=0.4$ 的 b 在波峰，D 正确。



故答案为 ACD

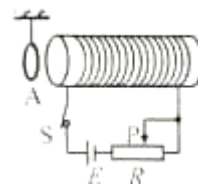
本题考查波的传播，出现非 $\frac{1}{4}T$ 和非 $\frac{1}{4}\lambda$ 得整数倍的情况，有新意。

难度：难。

第 II 卷（共 94 分）

四. 填空题（共 20 分，每小题 4 分，答案写在题中横线上的空白处或指定位置。）

21. 如图，金属环 A 用轻绳悬挂，与长直螺线管共轴，并位于其左侧，若变压器滑片 P 向左移动，则金属环 A 将向_____（填“左”或“右”）运动，并



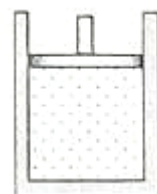
有_____（填“收缩”或“扩张”）趋势。

答案：左 收缩

【解析】变阻器滑片 P 向左移动，电阻变小，电流变大，根据楞次定律，感应电流的磁场方向原电流磁场方向相反，相互吸引，则金属环 A 将向左移动，因磁通量增大，金属环 A 有收缩趋势。

本题考查楞次定律。难度：易。

22. 如图，上端开口的圆柱形气缸竖直放置，截面积为 $5 \times 10^{-3} m^2$ ，一定质量的气体被质量为 $2.0 kg$ 的光滑活塞封闭在气缸内，其压强为_____pa（大气压强取 $1.01 \times 10^5 pa$ ， g 取 $10 m/s^2$ ）。若从初温 $27^\circ C$ 开始加热气体，使活塞离气缸底部的高度由 $0.5 m$ 缓慢变为 $0.51 m$ ，则此时气体的温度为_____°C。



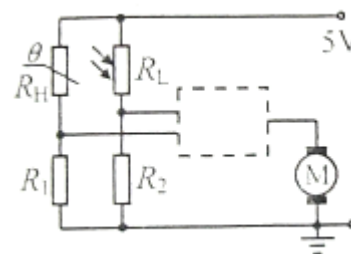
解析： $P = P_0 + \frac{mg}{S} = 1.41 \times 10^5 pa$

$$\frac{PV_1}{T_1} = \frac{PV_2}{T_2}, T_2 = 306K, t_2 = 33^\circ C$$

本题考查气体实验定律。

难度：易。

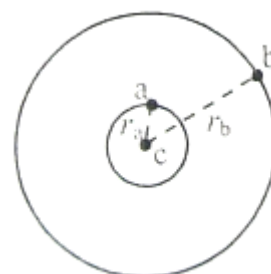
23. 电动机的自动控制电路如图所示，其中 R_H 为热敏电阻， R_L 为光敏电阻，当温度升高时， R_H 的阻值远小于 R_1 ；当光照射 R_L 时，其阻值远小于 R_2 ，为使电动机在温度升高或受到光照时能自动启动，电路中的虚线框内应选_____门逻辑电路；若要提高光照时电动机启动的灵敏度，可以_____ R_2 的阻值（填“增大”或“减小”）。



【解析】为使电动机在温度升高或受到光照时能自动启动，即热敏电阻或光敏电阻的电阻值小时，输入为 1，输出为 1，所以是“或门”。

因为若要提高光照时电动机启动的灵敏度，需要在光照较小即光敏电阻较大时输入为 1，输出为 1，所以要增大 R_2 。

24. 如图，三个质点 a、b、c 质量分别为 m_1 、 m_2 、 M ($M \gg m_1, M \gg m_2$)。在 C 的万有引力作用下，a、b 在同一平面内绕 c 沿逆时针方向做匀速圆周



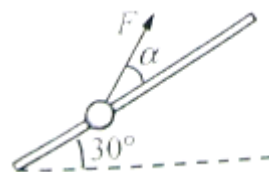
运动，轨道半径之比 $r_a:r_b=1:4$ ，则它们的周期之比 $T_a:T_b=$ _____；从图示位置开始，在 b 运动一周的过程中，a、b、c 共线了_____次。

【解析】根据 $G\frac{Mm}{r^2}=m\frac{4\pi^2}{T^2}r$ ，得 $T=\sqrt{\frac{4\pi^2 r^3}{GM}}$ ，所以 $\frac{T_a}{T_b}=\frac{1}{8}$ ，

在 b 运动一周的过程中，a 运动 8 周，所以 a、b、c 共线了 8 次。

本题考查万有引力和圆周运动。难度：中等。

25. 如图，固定于竖直面内的粗糙斜杆，在水平方向夹角为 30° ，质量为 m 的小球套在杆上，在大小不变的拉力作用下，小球沿杆由底端匀速运动到顶端，为使拉力做功最小，拉力 F 与杆的夹角 $\alpha=$ _____，拉力大小 $F=$ _____。



【解析】 $\begin{cases} F\sin\alpha = mg\cos 30^\circ \\ F\cos\alpha = mg\sin 30^\circ \end{cases}$ ， $\alpha = 60^\circ$ ， $F = mg$ ， $W = mgh$ 。因为

没有摩擦力，拉力做功最小。

本题考查力的分解，功等。难度：中等。

26. 在用 DIS 描绘电场等势线的实验中

(1) 电源通过正负电极 a、b 在导电物质上产生的稳恒电流分布模拟了二个_____产生_____；用_____探测等势点。

(2) (单选题) 在安装实验装置时，正确的做法是 ()

- (A) 在一块平整木板上依次放复写纸、白纸、导电纸
- (B) 导电纸有导电物质的一面应该向上
- (C) 连接电源正负极的电极 a、b 必须与导电物质保持绝缘
- (D) 连接电极 a、b 的电源电压为交流 4~6V

【解析】

(1) 点电荷，电场，DIS

(2) B

A 应依次放白纸、复写纸、导电纸

B 应电极 a、b 必须与导电物质保持导电。

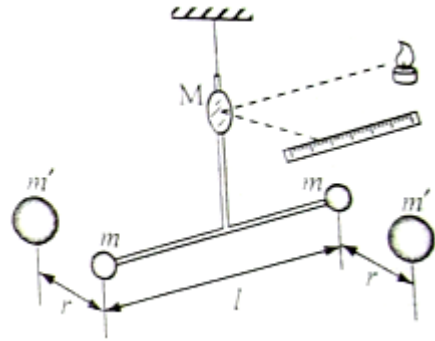
C 应连接电极 a、b 的电源电压为为直流 4-6V

27. (6 分) 卡文迪什利用如图所示的扭秤实验装置测量了引力常量 G。

(1) (多选题) 为了测量石英丝极微的扭转角, 该实验装置中采取使“微小量放大”的主要措施

- (A) 减小石英丝的直径
- (B) 增大 T 型架横梁的长度
- (C) 利用平面镜对光线的反射
- (D) 增大刻度尺与平面镜的距离

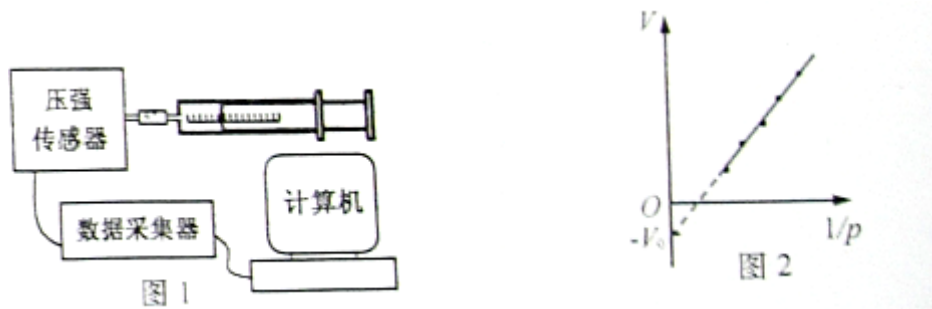
(2) 已知 T 型架水平横梁长度为 l , 质量分别为 m 、 m' 的球, 位于同一水平面, 当横梁处于力矩平衡状态, 测得 m 、 m' 连线长度 r , 且与水平横梁垂直; 同时测得石英丝的扭转角度为 θ , 由此得到扭转力矩 $k\theta$ (k 为扭转系数且已知), 则引力常量的表达式 $G = \underline{\hspace{2cm}}$ 。



解析: (1) CD

(2) 根据 $G \frac{mm'}{r^2} \cdot l = k\theta$, 得 $G = \frac{k\theta r^2}{2mm'l}$ 。

28. (6 分) 用 DIS 研究一定质量气体在温度不变时, 压强与体积关系的实验装置如图 I 所示, 实验步骤如下:



①把注射器活塞移至注射器中间位置, 将注射器与压强传感器、数据采集器、计算机逐一链接;

②移动活塞, 记录注射器的刻度值 V , 同时记录对应的由计算机显示的气体压强值 P ;

③用 $V - 1/P$ 图像处理实验数据, 得出如图 2 所示图线,

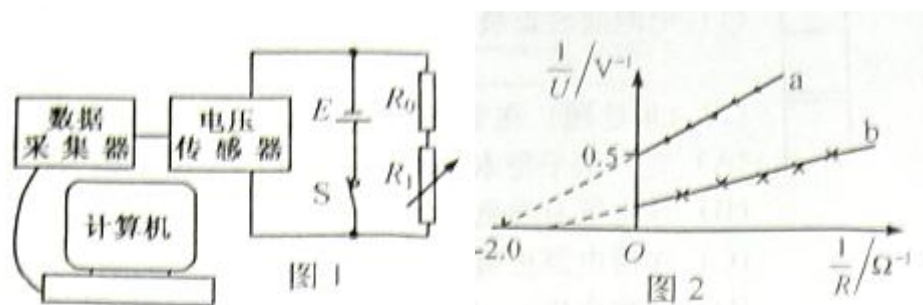
- (1) 为了保持封闭气体的质量不变, 实验中采取的主要措施是_____;
- (2) 为了保持封闭气体的温度不变, 实验中采取的主要措施是_____和_____;
- (3) 如果实验操作规范正确, 但如图所示的 $V - 1/P$ 图线不过原点, 则 v_0 代表_____。

【解析】(1) 用润滑油涂活塞

(2) 慢慢抽动活塞，活塞导热。

(3) 体积读书值比实际值大 V_0 。根据 $P(V+V_0)=C$, C 为定值，则 $V = \frac{C}{P} - V_0$ 。

29. (6分) 某同学利用 DIS, 定值电阻 R_0 、电阻箱 R_1 等实验器材测量电池 a 的电动势和内阻, 实验装置如图 1 所示, 实验时多次改变电阻箱的阻值, 记录外电路的总电阻阻值 R , 用电压传感器测得端电压 U , 并在计算机上显示出如图 2 所示的 $1/U - 1/R$ 关系图线 a, 重复上述实验方法测量电池 b 的电动势和内阻, 得到图 2 中的图线 b。



(1) 由图线 a 可知电池 a 的电动势 $E_a = \underline{\quad\quad}$ V, 内阻 $r_a = \underline{\quad\quad}$ Ω 。

(2) 若用同一个电阻 R 先后与电池 a 及电池 b 链接, 则两电池的输出功率 p_a $\underline{\quad\quad}$ p_b (填“大于”、“等于”或“小于”), 两电池的效率 η_a $\underline{\quad\quad}$ η_b (填“大于”、“等于”或“小于”)。

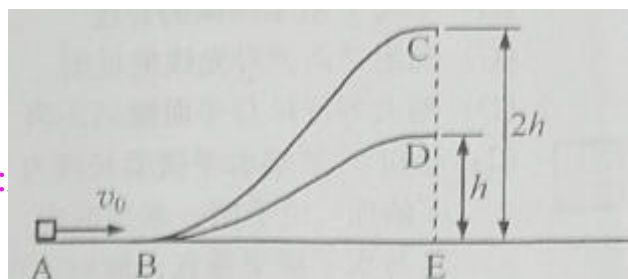
解析: (1) 根据 $E = U + \frac{U}{R}r$, 得 $\frac{1}{U} = \frac{1}{E} + \frac{r}{E} \cdot \frac{1}{R}$, 图象 a, 截距 $b = 0.5(\frac{1}{V})$, 斜率 $k = 0.25(\frac{\Omega}{V})$, 所以电动势 $E = \frac{1}{b} = 2V$, 内阻 $r = E \cdot k = 0.5\Omega$ 。

(2) 从图象可知: 截距 $b_b = 0.2(\frac{1}{V})$, 斜率 $k_b = 0.13(\frac{\Omega}{V})$, 电动势 $E_b \approx 5V$, 内阻 $r_b \approx 0.7\Omega$, $E_a < E_b$, $r_a < r_b$, 电池的输出功率 $p = \left(\frac{E}{R+r}\right)^2 R$, 得 p_a 小于 p_b ; 电池的效率 $\eta = \frac{UI}{EI} = \frac{R}{R+r}$, 得 η_a 大于 η_b 。

本题考查用伏阻法(电压表和电阻箱)测电源的电动势和内阻, 图像法, 以及电源的输出功率及效率。

难度: 难。

30. (10分) 如图, ABC 和 ABD 为两个光滑固定轨道, A、B、E 在同一水平面, C、D、E 在



2010 年高考试题下载 <http://>

同一竖直线上，D点距水平面的高度 h ，C点高度为 $2h$ ，一滑块从A点以初速度 v_0 分别沿两轨道滑行到C或D处后水平抛出。

(1) 求滑块落到水平面时，落点与E点间的距离 S_C 和 S_D 。

(2) 为实现 $S_C < S_D$ ， v_0 应满足什么条件？

解析：

(1) 根据机械能守恒， $\frac{1}{2}mv_0^2 = 2mgh + \frac{1}{2}mv_C^2$ ， $\frac{1}{2}mv_0^2 = mgh + \frac{1}{2}mv_D^2$

根据平抛运动规律： $2h = \frac{1}{2}gt_c^2$ ， $h = \frac{1}{2}gt_D^2$

$$S_C = v_C t_c, S_D = v_D t_D$$

综合得 $S_C = \sqrt{\frac{4v_0^2 h}{g} - 16h^2}$ ， $S_D = \sqrt{\frac{2v_0^2 h}{g} - 4h^2}$

(2) 为实现 $S_C < S_D$ ，即 $\sqrt{\frac{4v_0^2 h}{g} - 16h^2} < \sqrt{\frac{2v_0^2 h}{g} - 4h^2}$ ，得 $v_0 < \sqrt{6gh}$

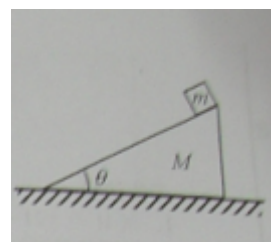
但滑块从A点以初速度 v_0 分别沿两轨道滑行到C或D处后水平抛出，要求 $v_0 > \sqrt{2gh}$ ，

所以 $\sqrt{2gh} < v_0 < \sqrt{6gh}$ 。

本题考查根据机械能守恒和平抛运动规律以及用数学工具处理物理问题的能力。

难度：难。

31. (12分) 倾角 $\theta = 37^\circ$ ，质量 $M = 5\text{kg}$ 的粗糙斜面位于水平地面上，质量 $m = 2\text{kg}$ 的木块置于斜面顶端，从静止开始匀加速下滑，经 $t = 2\text{s}$ 到达底端，运动路程 $L = 4\text{m}$ ，在此过程中斜面保持静止



($\sin 37^\circ = 0.6, \cos 37^\circ = 0.8, g$ 取 10m/s^2)，求：

- (1) 地面对斜面的摩擦力大小与方向；
- (2) 地面对斜面的支持力大小
- (3) 通过计算证明木块在此过程中满足动能定理。

【解析】(1) 隔离法：

对木块： $mg \sin \theta - f_1 = ma$ ， $mg \cos \theta - N_1 = 0$

因为 $s = \frac{1}{2}at_2$ ，得 $a = 2m/s$

所以， $f_1 = 8N$ ， $N_1 = 16N$

对斜面：设摩擦力 f 向左，则 $f = N_1 \sin \theta - f_1 \cos \theta = 3.2N$ ，方向向左。

(如果设摩擦力 f 向右，则 $f = -N_1 \sin \theta + f_1 \cos \theta = -3.2N$ ，同样方向向左。)

(2) 地面对斜面的支持力大小 $N = f = N_1 \cos \theta + f_1 \sin \theta = 67.6N$

(3) 木块受两个力做功。

重力做功： $W_G = mgh = mgs \sin \theta = 48J$

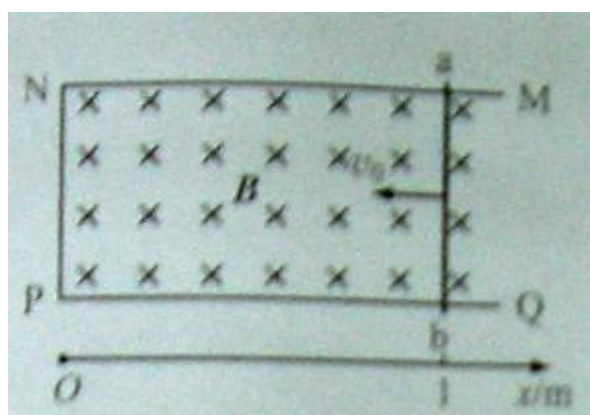
摩擦力做功： $W_f = -fs = -32J$

合力做功或外力对木块做的总功： $W = W_G + W_f = 16J$

动能的变化 $\Delta E_k = \frac{1}{2}mv^2 = \frac{1}{2}m \cdot (at)^2 = 16J$

所以，合力做功或外力对木块做的总功等于动能的变化（增加），证毕。

32. (14分) 如图，宽度 $L=0.5m$ 的光滑金属框架 $MNPQ$ 固定板个与水平面内，并处在磁感应强度大小 $B=0.4T$ ，方向竖直向下的匀强磁场中，框架的电阻非均匀分布，将质量 $m=0.1kg$ ，电阻可忽略的金属棒 ab 放置在框架上，并且框架接触良好，以 P 为坐标原点， PQ 方向为 x 轴正方向建立坐标，金属棒从 $x_0=1m$ 处以 $v_0=2m/s$ 的初速度，沿 x 轴负方向做 $a=2m/s^2$ 的匀减速直线运动，运动中金属棒仅受安培力作用。求：



(1) 金属棒 ab 运动 $0.5m$ ，框架产生的焦耳热 Q ；

(2) 框架中 $aNPb$ 部分的电阻 R 随金属棒 ab 的位置 x 变化的函数关系；

(3) 为求金属棒 ab 沿 x 轴负方向运动 $0.4s$ 过程中通过 ab 的电量 q ，某同学解法为：先算

出金属棒的运动距离 s ，以及 $0.4s$ 时回路内的电阻 R ，然后代入

$$q = \frac{\Delta\varphi}{R} = \frac{BLs}{R} \quad R = \frac{BLs}{q} = \frac{BLs}{2cm^2 p_0} = 240 \text{ pa} l_2 = 3\mu\text{m} l_2 = 1\mu\text{m}$$

$$q = \varepsilon_0 SE \varepsilon_0 = 8.85 \times 10^{-12} \text{ C}^2 / \text{N} \cdot \text{m}^2 E_M$$

的错误之处，并用正确的方法解出结果。

解析：

$$(1) a = \frac{F}{m}, \quad F = ma = 0.2N$$

因为运动中金属棒仅受安培力作用，所以 $F=BIL$

$$\text{又 } I = \frac{E}{R} = \frac{BLv}{R}, \text{ 所以 } R = \frac{BLv}{I} = \frac{BLat}{I} = 0.4t$$

$$\text{且 } S = \frac{1}{2}at^2, \text{ 得 } t = \sqrt{\frac{2S}{a}} = \frac{1}{\sqrt{2}}s$$

$$\text{所以 } Q = I^2 R t = I^2 \cdot 0.4t^2 = 0.2J$$

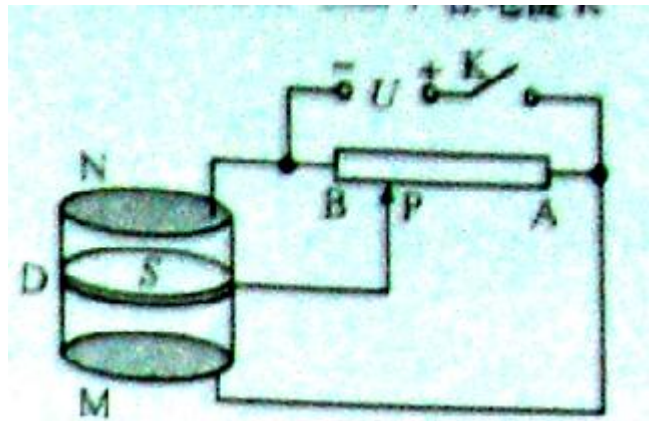
$$(2) x = 1 - \frac{1}{2}at^2 = 1 - t^2, \text{ 得 } t = \sqrt{1-x}, \text{ 所以 } R = 0.4\sqrt{x}.$$

(3) 错误之处：因框架的电阻非均匀分布，所求 R 是 $0.4s$ 时回路内的电阻 R ，不是平均值。

正确解法：因电流不变，所以 $q = It = 1 \times 0.4C = 0.4C$ 。

本题考查电磁感应、电路与牛顿定律、运动学公式的综合应用。难度：难。

33. (14分) 如图，一质量不计，可上下自由活动的活塞将圆筒分为上下两室，两室中分别封闭有理想气体，筒的侧壁为绝缘体，上底 N ，下底 M 及活塞 D 均为导体并按图连接，活塞面积 $S = 2\text{cm}^2$ 。在电键 K 断开时，两室中气体压强均为 $p_0 = 240\text{Pa}$ ， ND 间距 $l_1 = 1\mu\text{m}$ ， DM 间距 $l_2 = 3\mu\text{m}$ ，将变阻器的滑片 P 滑到左端 B ，



闭合电键后，活塞 D 与下底 M 分别带有等量异种电荷，并各自产生匀强电场，在电场力作用下活塞 D 发生移动。稳定后， ND 间距 $l_1' = 3\mu\text{m}$ ， DM 间距 $l_2' = 1\mu\text{m}$ ，活塞 D 所带电量的绝对值 $q = \varepsilon_0 SE$ (式中 E 为 D 与 M 所带电荷产生的合场强，常量 $\varepsilon_0 = 8.85 \times 10^{-12} \text{ C}^2 / \text{N} \cdot \text{m}^2$) 求：

-
- (1) 两室中气体的压强（设活塞移动前后气体温度保持不变）；
 - (2) 活塞受到的电场力大小 F ；
 - (3) M 所带电荷产生的场强大小 E_M 和电源电压 U ；
 - (4) 使滑片 P 缓慢地由 B 向 A 滑动，活塞如何运动，并说明理由。

解析：

$$(1) p_0 l_1 = p_1 l'_1 \text{ 解得 } P_1 = 80 \text{ Pa}$$

$$p_0 l_2 = p_2 l'_2, \text{ 解得 } P_2 = 720 \text{ Pa}$$

$$(2) \text{ 根据活塞受力的平衡, } F = (p_2 - p_1)S = 0.128 \text{ N}.$$

(3) 因为 E 为 D 与 M 所带电荷产生的合场强, E_M 是 M 所带电荷产生的场强大小, 所以 $E = 2E_M$,

$$\text{所以 } q = \varepsilon_0 S E = 2\varepsilon_0 S E_M, \text{ 所以 } E_M = \frac{F}{q} = \frac{F}{2\varepsilon_0 S E_M}, \text{ 得 } E_M = \sqrt{\frac{F}{2\varepsilon_0 S}} = 6 \times 10^6 \text{ N/C}.$$

$$\text{电源电压 } U = 2E_M l'_2 = 12 \text{ V}$$

(4) 因 U_{MD} 减小, E_{MD} 减小, 向下的力 F 减小, U_{DN} 增大, E_{DN} 减小, 向上的力 F 增大, 活塞向上移动。

本题考查电场、电场力, 气体等综合知识和分析综合能力。

难度: 难。

把电场和气体结合在一起, 具有新意。

解析者言: 因为没有见到官方答案, 加之时间紧, 水平有限, 可能有不妥甚至错误, 如有答案, 请纠正。

高考物理, 大多以理综形式呈现, 物理单科卷, 主要为江苏省卷、上海卷、广东卷, 我多年研究, 认为 3 卷呈三国鼎立之势。我的感觉: 江苏省卷难, 上海卷巧, 广东卷平。上海人就是聪明: 题目多, 有容易的, 容易的多, 也有难的, 难的少。不像江苏省卷, 总题量太少, 难题多。