

2015 普通高等学校招生全国统一考试（新课标 II）

文科综合

注意事项：

1. 本试卷分第 I 卷（选择题）和第 II 卷（非选择题）两部分。答题前，考生务必在将自己的姓名、考生号填写在答题卡上。
2. 回答第 I 卷时，选出每小题选出答案后，用铅笔把答题卡上对应题目的答案标号涂黑，如需改动，用橡皮擦干净后，再选涂其他答案标号。写在试卷上无效。
3. 回答第 II 卷时，将答案卸载答题卡上，写在试卷上无效。
4. 考试结束，将本试卷和答题卡一并交回。

地理部分

第 I 卷

本卷共 35 小题。每小题 4 分，共 140 分。在每个小题给出的四个选项中，只有一项是符合题目要求的。

桑基、蔗基、菜基鱼塘是珠江三角洲地区传统的农业景观和被联合国推介的典型生态循环农业模式。改革开放以来，随着工业化和城镇化的快速发展，传统的基塘农业用地大部分变为建设用地。保留下来的基塘也变以花卉、菜基为主。据此完成 1—3 题

1、该地基塘转就以建设用地对局地气候的影响是

- | | |
|-----------|----------|
| A、大气湿度增高 | B、大气降水增多 |
| C、近地面风速增大 | D、气温变率增大 |

2、农民用花基、菜基鱼塘取代桑基、蔗基的直接目的是

- | | |
|----------|----------|
| A、提高土壤质量 | B、节省劳动力 |
| C、促进生态循环 | D、提高经济收入 |

3、桑基、蔗基鱼塘被保留的很少，反映了该生态循环农业模式

- A、与当地产业发展方向不一致
- B、不具有在其他地区推广的价值
- C、与现代农业发展要求不相符
- D、不适应当地水热条件的变化

2013 且 7 月 30 日，我国西北某地出沙尘暴，图 I 示意该地当日 14 时—24 时气温、气压随时间的变化、据些完成 4—5 题。

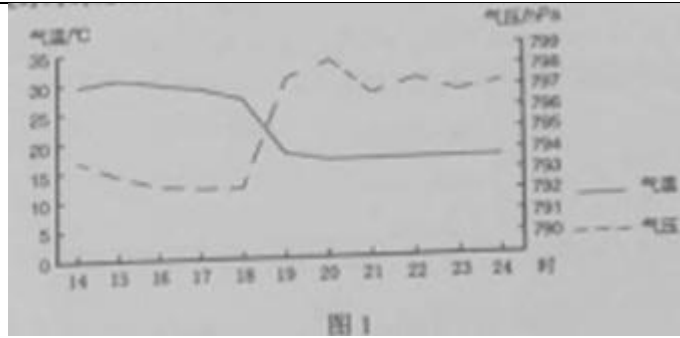


图 1

4、强沙尘暴经过该地时间段是

- A. 16 时—17 时
- B. 17 时—18 时
- C. 18 时—19 时
- D. 19 时—20 时

5、与正常情况相比，强沙尘暴经过时，该地

- A. 气温水平差异减小
- B. 水平气压梯度增大
- C. 地面吸收太阳辐射增多
- D. 大气逆辐射减弱

1996 年我国与 M 国签订海洋渔业发展合作规划，至 2010 年我国有 20 多家沿海渔业企业（总部设在国内）在 M 国从事渔业捕捞和渔业产品加工工，产品除满足 M 国需求外，还远销其他国家，图 2 示意 M 国的位置，把此完成 6—8 题



图 2

6、中资企业在 M 国从事渔业捕捞和渔业产品加工的主要目的是

- A. 满足我国需求
- B. 拓展国际市场
- C. 提高技术水平
- D. 增加当地就业

7、如考虑运输成本，在下列国家中，M 国中资企业的产品首先应销往：

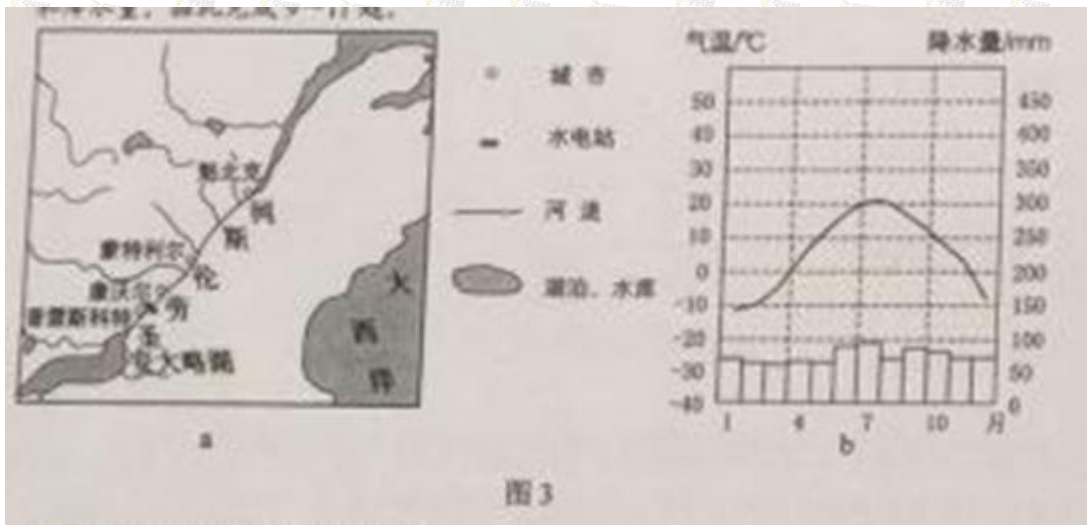
- A. 美国
- B. 日本
- C. 澳大利亚
- D. 法国

8、如果都以当地时间 8：00—12：00 和 14：00—18：00 作为工作时间，在 M 国的中资企业若在双方工作时间内向其总部汇报业务，应选在当时时间的

- A. 8：00—9：00
- B. 11：00—12：00

C、14:00—15:00 D、17:00—18:00

圣劳伦斯河（图 3a）是一条著名的“冰冻之河”。图 3b 示意蒙特利尔年内各月气温和降水量。据此完成 9—11 题。



9、蒙特利尔失控河段结冰期大致为：

- A、2 个月 B、3 个月 C、4 个月 D、5 个月

10、据图示信息推测，冬季可能不结冰的河段位于

- A、安大略湖至普雷斯科特河段
B、普雷斯科特至康沃尔河段
C、蒙特利尔至魁北克河段
D、魁北克以下河口段

11、减少该河凌汛危害的可行措施是：①加深河道 ②绿化河堤 ③分段拦冰 ④拓宽河道

- A、①② B、②③ C、③④ D、①④

第 II 卷

本卷包括必考题和选考题两部分。第 36 题—第 41 题为必考题，每个试题考生都必须作答。第 42 题—第 48 题为选考题，考生根据需求作答。

36. (22 分) 阅读图文材料，完成下列要求。

尼日利亚人口超过 1 亿，经济以农矿也为主。2014 年 11 月 20 日，尼日利亚与我国正式签署了沿海铁路项目商务合同。该项目总金额达 119.7 亿美元，全线采用中国铁路技术标准，是截至当时中国对外工程承包史上单体合同金额最大的项目。图 4 示意尼日利亚铁路的分布。

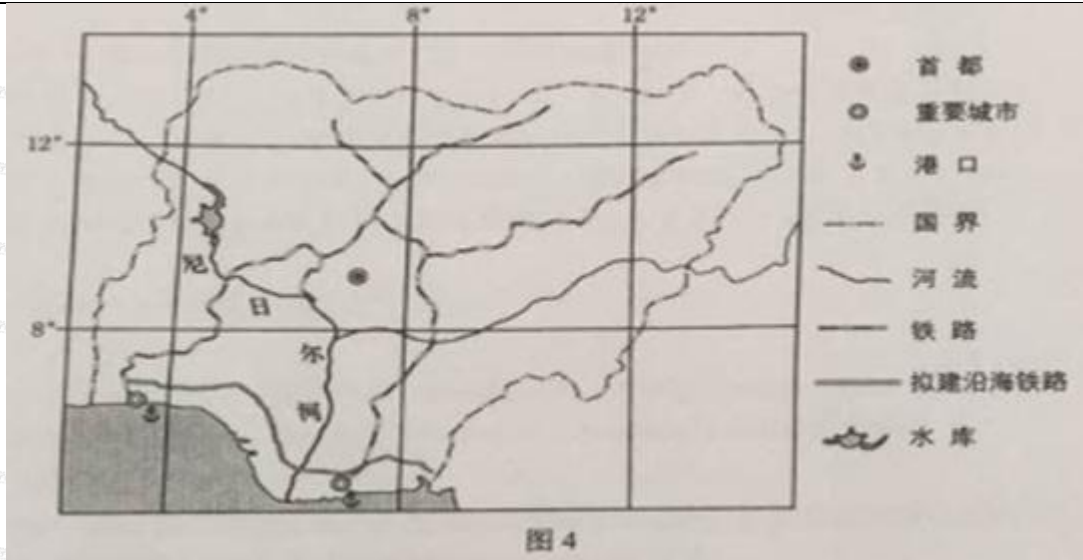


图 4

- (1) 归纳尼日利亚现有铁路路网特点及作用。(6分)
- (2) 指出尼日利亚拟建沿海铁路的布局特点。(6分)
- (3) 简述尼日利亚沿海地区的气候特点,以及针对此气候特点,我国相关人员在建设该铁路时,为保障身体安康,需要防范的问题。(6分)
- (4) 指出因尼日利亚沿海铁路项目而可能获益的我国主要工业部门。(4分)

37. (24分) 阅读图文材料,完成下列要求。

图 5 示意河套平原地区。当地将黄河水通过引水渠引入区内灌溉农田,农田灌溉退水经过排水渠汇入乌梁素海。近年来乌梁素海出现污染加重趋势。

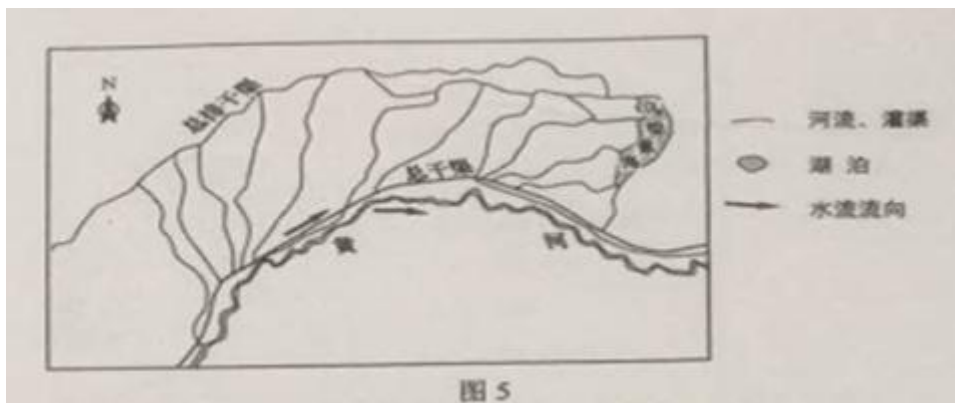


图 5

- (1) 判断河套平原的地势特点,并简述理由。(6分)
- (2) 指出长期维持河套灌渠功能必须解决的问题,并简述原因。(6分)
- (3) 分析近年来乌梁素海污染严重的原因。(6分)
- (4) 提出治理乌梁素海污染的措施。(6分)

请考生在第42、43、44三道题地理题中任选一题作答,如果多做,则按所做的第一题计分。作答

时用2B 铅笔子在答题卡上把所选题目的题号涂黑。

42. (10 分) 旅游地理

九黄机场位于四川省松潘县川主寺镇(图6), 距九寨沟和黄龙景区分别为 88 千米和 43 千米, 目前已开通成都、重庆、西安、上海、北京、杭州、广州等地至九黄机场的多条航线, 近年来九黄机场旅客年吞吐量维持在 170 万人次, 远超设计能力。



图 6

分析我国东部地区去九寨沟、黄龙旅游的游客多数乘飞机抵达的原因。

43. (10 分) 自然灾害与防治

近年来, 沿海地区城市遭受严重涝灾的现象时有发生。

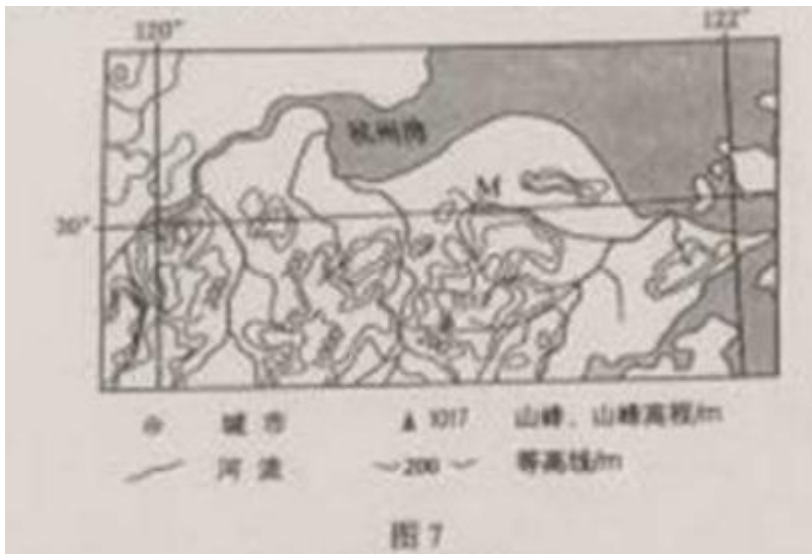


图 7

读图 7, 分析 M 市易出现重度涝灾的自然原因。

44. (10 分) 环境保护

贵州省某喀斯特山区石漠化严重。农民在山上放牧、砍柴。找土种玉米，当地农民反映，山上的土一年比一年薄，一发大水，土全被冲走了，玉米也被冲走了。石头越来越多，最后连玉米也无法种了，生活越来越困难。

简述为改善环境并提高人民的生活水平，当地政府应采取的具体措施。

政治部分

一、选择题：本题共 12 小题，每小题 4 分，共 48 分。在每小题给出的四个选项中，只有一项是符合题目要求的。

12. 老吴在年底对年初购买的投资产品进行了梳理：50 元买入甲公司的股票已按 54 元卖出；一公司股票价格仍为 20 元，按照每股 1.2 元进行了现金分红；丙公司股票价格也没变，按照每 20 股送一股进行了股票分红；某银行理财产品的年收益率为 6%。上述投资产品中年收益率最高的是

A. 甲公司股票 B. 乙公司股票 C. 丙公司的股票 D. 银行理财产品

13. 2014 年 8 月，某市政府清理出涉企权力 5157 项，废止了其中 3301 项，对停留的涉企权力向社会全部公开，并表示严肃查处涉企审批、收费中的违法违纪问题，这一做法的预期效果是

- ①政府对企业的监督与管理更有效率
- ②“看得见的手”受到有力的制约
- ③市场机制能更好的发挥资源配置的作用
- ④企业的市场竞争力得到增强

A. ①② B. ①③ C. ②③ D. ③④

14. 2015 年 5 月，我国存款保险制度正式实施。按照存款保险制度规定，成员银行缴纳保费形成保险基金，当成员银行破产清算时，使用银行保险基金按规定对存款人惊醒偿付。这一制度对英航发展的积极意义在于

- ①防范金融风险，稳定金融秩序
- ②增强银行信用，推动银行公平竞争
- ③促进利率市场化，增加银行收益
- ④降低银行经营风险，提高其竞争力

A. ①② B. ①③ C. ②④ D. ③④

15. 在我国，煤炭是电力生产的主要原料。煤炭价格从 2011 年约 850 元/吨大幅度下降到 2014 年底约 500 元/吨，有人据此建议下降电力价格。能支持其建议的恰当理由是

电力产能你过生，出现供过于求的情况

店里是生活必需品，低价有利于社会稳定

电力价格与其生产成本的变化方向应当一致

电力与煤炭是互补品，而这价格变化方向应当一致

16 从 2013 年开始，某是在社区推动基层党组织和自治组织代表、社区居民代表、相关社会组织代表等组成民情理事会。民情理事会通过协商讨论，促进诸如广场舞扰民、小区乱停车等难题的解决，得

益于民情理事会

- ①提供了有效的利益协商渠道
- ②完善了基层民主自治的组织形式
- ③发挥了多方主体参与社区治理的作用
- ④明确了社区居民参加基层民主协商的义务

A. ①③ B. ①④ C. ②③ D. ②④

17、为推进司法体制改革，2014年12月，上海市第三中级人民法院、上海市人民检察院第三分院正是成立，负责管辖审理跨行政区划的民商事、行政和资源诉讼案件。建立跨行政区划的人民法院和人民检察院旨在

- ①健全司法机关内部监督制约机制
- ②排除地方对司法活动的干扰
- ③提升司法公信力
- ④推动审判权和执行权相分离

A ①③ B①④ C②③ D②④

18、近年来，西藏自治区划拨专项经费，大力改善寺庙基础设施和公共服务条件。截止2014年9月，全区1787座寺庙实现了国旗、报纸、文化书屋和广播电视全覆盖，1735座寺庙通了路，1730座寺庙通了电，1662座寺庙通了水，1736座寺庙实现了通信覆盖。上述做法

- ①表明我国宗教坚持独立自主自办原则
- ②保障了公民宗教信仰的权利
- ③为发挥宗教的积极因素提供了有利条件
- ④有利于政府依法对宗教事务进行管理

A ①② B①④ C②③ D③④

19.2014年10月，习近平总书记在文艺工作座谈会上指出，艺术可以放飞想象的翅膀，但是一定要脚踩坚实的大地。文艺创作方法有一百条、一千条，但最根本、最关键、最牢靠的办法是扎根人民、扎根生活。从唯物史观看，这是因为

- ①文艺的源泉是人民群众的生产生活
- ②文艺的发展取决于文艺创作方法的创新
- ③文艺反映社会生活的形式与风格是统一的
- ④文艺反映并服务于人民群众生产生活的一种社会意识形式

A①② B①④ C②③ D③④

20.2015年1月，有韩国某电视台拍摄、韩国导演执导的全景式反映当代中国发展成就的纪录片《超越中国》在韩国热播，引起热烈反响。创韩国同类电视纪录片收视率的新高。《超越中国》在韩国热播

- ①推动中韩两国文化交流上了一个新台阶
- ②显示当代中国文化得到韩国民众的广泛认同

③反应中国的经济实力与国际影响力日益扩大

④表明当代中国的发展越来越引起韩国民众的关注

A①② B①③ C②④ D③④

21.2014年12月召开的中央经济工作会议分析了我国经济九个方面的趋势性变化，提出我国经济正在向形态更高级、分工更复杂、结构更合理的阶段演化，经济发展进入新常态。从辩证法的观点看，“经济发展进入新常态”意味着

①我国经济发展方式正在发生质的变化

②我国经济发展呈现出新的阶段性特征

③制约我国经济平稳健康发展的矛盾和问题已经解决

④推动我国解决平稳健康发展的新的体制机制已经形成

A ①② B ①④ C ②③ D ③④

22.“若言琴上有琴声，放在匣中何不鸣？若言声在指头上，何不于君指上听？”从辩证唯物主义的观点看，对苏轼的《琴韵》理解正确的是

①琴声是人的活动的产物，具有鲜明的“人化”特点

②琴声来自于琴与指之间的相互作用，与人的主观世界无关

③琴、指、琴声以及三者之间的联系都具有客观实在性

④只要指与琴发生相互作用，就能产生美妙的音乐

A ①② B①③ C ②④ D ③④

23.长期以来，画家笔下的马往往是四蹄齐伸、腾空飞奔。然而，高速相机连拍的照片显示，飞奔时的马蹄是交替地移动的。但是，当画家画出马蹄交替移动的奔马时，有人却批评画得不像。这表明在艺术领域

A. 认识的发展与认识工具的进步没有直接关系

B. 以往的认识经验阻碍认识的发展

C. 仁者见仁、智者见智，没有客观的评价标准

D. 人们的主观世界对认识的影响更加显著

38. (26分) 阅读材料，完成下列要求

税收是国家治理的基础和重要支柱，在社会经济生活中发挥着巨大的作用

材料一

党的十八届三中全会通过的《中共中央关于全面深化改革若干重大问题的决定》强调落实“税收法定原则”，2015年3月，十二届全国人大三次会议表决通过新修订的《中华人民共和国立法法》，明确“税种的设立，税率的确定和税收征收管理等税收基本制度”只能由法律规定。

材料二

2014年10月《国务院关于扶持小型微型企业健康发展的意见》提出要“认真落实已经出台的支

持小型微型企业税收优惠政策”，2015年3月，国家税务总局出台十大措施确保小微企业税收优惠政策落实。

数据显示，2015年一季度，全国享受企业所得税减半征收的小微企业有216万户，受惠面在90%以上，减税51亿元；享受暂免征收增值税和营业税政策的小微企业和个体工商户共有2700万户，减税189亿元。

- (1) 结合材料和所学政治知识，说明我国为什么要坚持税收法定原则。(12分)
- (2) 结合材料和所学经济知识，分析当前对小微企业实施税收优惠的理由。(14分)

39. (26分) 阅读材料，完成下列要求。

抗日战争期间，面对日本侵略者的疯狂进攻，中国人民克服经济力、军力，政治组织力等远远弱于日本的困难，同仇敌忾、共赴国难，以血肉之躯筑起了捍卫祖国的钢铁长城，涌现出杨靖宇、赵尚志、左权、赵登禹、张自忠、戴安澜等爱国将领，“狼牙山五壮士”、“八百壮士”等千英雄群体，用生命和鲜血谱写了一首爱国主义的壮丽史诗。

在惊天地，泣鬼神的抗日战争中，形成了中华民族伟大的抗战精神。中国人民向世界展示了天下兴亡、匹夫有责的爱国情怀，视死如归、宁死不屈的民族气节，不畏强暴、血战到底的英雄气概，百折不挠、坚忍不拔的必胜信念。抗战精神始终支撑和激励中国人民浴血奋战，终于打败了极其残暴、极其野蛮的日本侵略者，赢得了中国人民抗日战争的伟大胜利，为世界反法西斯战争胜利作出了不可磨灭的贡献。

- (1) 结合材料，运用意识能动作用的知识说明抗战精神对中国人民战胜日本侵略者的作用。(10分)
- (2) 结合材料，运用文化生活知识说明抗战精神与中华民族精神的关系。(10分)
- (3) 近年来，日本政界有人企图否认日本侵华的历史，请你加以批驳。(6分)

历史部分

24. 古代儒学者批评现实政治，往往称颂夏、商、周“三代之美”，甚至希望君主像尧、舜一样圣明。这表明了儒者 ()

- A. 不能适应现实政治
- B. 反对进行社会变革
- C. 理想化的政治诉求
- D. 以复古为政治目标

25. 汉宣帝曾称：“与朕共治天下者，其唯良二千石（郡太守）乎！”后来的帝王反复重申上述观念，这主要体现了 { }

- A. 地方吏治是国家安定的重要因素
- B. 中央集权与地方分权之间的矛盾
- C. 汉代地方行政制度为后代所沿用
- D. 历代帝王将汉宣帝作为治国榜样

26. 唐宋时期，江南经济迅猛发展，南宋时全国经济重心已移至江南。促成这一转变的主要动力之一是 ()

- A. 坊市制度瓦解
- B. 土地集中加剧
- C. 农业技术进步
- D. 海外贸易拓展

27.明成祖朱棣认为,北京“山川形胜,足以控四夷,制天下”,将都城从南京迁至北京。这一举措客观上

- A 推动了国家政治统一的进程 B 促进了跨区域贸易的繁荣 ()
C 抑制了区域性商帮的形成 D 改变了南北经济文化格局

28.奕訢力倡洋务,又因在兄弟中排行老六,被称为“鬼子六”;洋务派官员丁汝昌被称为“丁鬼奴”;郭嵩焘在一片冷嘲热讽中出任第一任驻英公使。这反映了()

- A 洋务运动与传统的观念发生冲突 B 崇洋媚外行为遭到社会鄙视
C 洋务派改器物不改制度遭到批判 D 西方列强侵略激起国人抵制

30.1938年,日本侵略者在北平设立“中国联合准备银行”,发行“联银券”,流通于平、津、鲁、豫等地;同时还发行了大量不具备货币性质的“军用票”,流通于市场,日本侵略者上述行径的目的是

- A.扰乱国统区金融秩序 B.转嫁战争负担
C.封锁抗日根据地经济 D.强化物资管制

31.到1952年底,新中国已建立多所俄文专科学校,北京大学、清华大学等多所高校和一批中学开设了俄文课程,许多中小城镇也掀起学习俄语的热潮。这是我国当时

- A.外交政策转变的需要 B.计划经济体制的需要
C.文化教育改革的需要 D.国家发展战略的需要

29.康有为在新学伪经考中认为,被奉为儒家经典的古文经实系伪造。1891年该书刊印后风行国内,但很快遭到清政府禁毁。这主要是因为该书旨在()

- A 揭露历史真相 B 引介西方理论
C 倡导变法维新 D 颠覆孔孟学说

32.17世纪60年代,茶叶在英国只是上流社会的消费品;到18世纪末,茶叶已成为普通民众的日常消费品。这反映了当时的英国

- A. 等级观念明显淡化 B. 崇尚东方的生活方式
C. 贫富差距日益缩小 D. 扩大了与东方的贸易

33.表1英、美、法、德工业生产总和在世界工业生产中的所占比例表

年代	1870	1896~1900	1913
比例	78%	74%	72%

由表1可以推知,19世纪70年代到20世纪初

- A. 欧美发达国家已经开始盛极而衰 B. 世界各地的工业化有所发展
C. 世界各国工业发展差距明显缩小 D. 世界经济结构发生重大变化

34.1930年苏联粮食产量为835.4亿千克,1931年降至694.8亿千克;1930年苏联粮食出口483亿千

克，1931年增至518亿千克。这表明苏联

- A. 人民为国家工业化建设作出贡献 B. 农业投入不足造成粮食供不应求
C. 粮食减产严重制约工业发展速度 D. 农业集体化影响农民生产积极性

35. 如果以“两格格局的确立与解体”为题撰写专著，贯穿全书的主线应该是美苏两国

- A. 根本利益的趋同 B. 军事冲突的加剧
C. 国家实力的消长 D. 敌对意识的淡化

40. (25分) 阅读材料，完成下列要求。

材料一

《孟子》中记载了孟子与其学生关于法律问题的讨论。学生问：“舜做天子后，假如其父杀人，舜的法官该怎么办呢？”孟子回答：“抓起来就行了。”学生又问：“难道舜不阻止法官吗？”孟子说：“舜怎么能阻止呢？法官是按职责办事。”学生问：“那舜又该怎么办呢？”孟子说：“舜应当放弃天子之位，毫不顾惜。然后偷偷也背上父亲逃到海边住下，一辈子都很快乐，把曾经做过天子的事情忘掉。”

——据《孟子》

材料二

公元前399年，苏格拉底被雅典陪审法庭以亵渎神明与蛊惑青年的罪名判处死刑。他与他的弟子们都认为判决不公。当弟子们安排苏格拉底逃走时，他却认为，虽然逃走是一种正义，但审判过程符合雅典法律程序，遵守合法的判决也是正义的要求，而且是更大的正义，因为如果拒服从判决，就等于践踏法律，倘若人人都以自己认为的正义为借口而任意践踏法律，社会秩序将混乱不堪，城邦将无法存在。最终他选择在弟子面前饮下毒药，从容赴死。

——摘编自（古希腊）柏拉图《苏格拉底的申辩》

(1) 结合材料及所学知识，概括孟子和苏格拉底的法制观念。(10分)

(2) 根据材料并结合所学知识，指出两种法制观念产生的社会背景及其共同的历史价值。(15分)

41. (12分) 阅读材料，完成下列要求。

材料

表2 1950~2008年我国部分节假日一览表

法定假日天数 \ 年份	1950	1995	2000	2008
元旦	1	1	1	1
春节	3	3	3	3
劳动节	1	1	3	1
国庆节	2	2	3	3
星期日	1	1	1	1
星期六	-	1	1	1
清明节	-	-	-	1
端午节	-	-	-	1
中秋节	-	-	-	1

表二能够反映我国节假日变化的多种趋势，指出其中一种变化趋势并说明形成的历史原因。

45. (15分) 历史上重大改革回眸

材料

清代前期，正一品文官年薪俸银 180 两，正七品知县 45 两，正九品官员 33 两，这些银两除养家糊口外，还要支付随从、幕僚的酬金及办公费用，普通人入不敷出。各级官员在征收田赋等税收时，以各种名义额外加征。这些水外之税，小部分作为各级衙门的办公经费，大部分被各级官员据为己有。“大州上县，每正赋一两”额外加征“银一钱五分，二钱不等”；部分轴线“数倍于正赋”，以致引发民变。雍正帝认为，与其暗取而多征，不若明定其数；与其营私而中饱，不若责其办公。他决定改革，明确规定加征的税额，统一管理，用于发放以“养廉”为名的津贴。养廉银的数目，视职位的高低及岗位的重要程度而定。总督每年约二万两，州县每年也有二千两左右。用作办公经费与官员薪水补贴。官员的合法收入大幅度提高。

——摘编自黄惠贤等《中国俸禄制度史》

(1) 根据材料，概括指出清政府建立养廉银制度的原因。(8分)

(2) 根据材料并结合所学知识，简析养廉银制度的作用。(7分)

46. (15分) 【近代社会的民主思想与实践】

材料

所谓立宪政体，所谓国民政治，国能实现与否，纯然以多数国民能否对于政治，自觉其居于主任的主动的地位为唯一根本之条件，自居于主任的主动的地位，则应自进而建设政府，自立法度而服从之，自定权利而自尊重之，倘立宪政治之主动地位属于政府而不属于人民，不独宪法乃一纸空文，无永久厉行之保障，且宪法上之自由权利，人民将视为不足轻重之物，而不以生命拥护之；则立宪政治之精神已完全丧失矣。是以立宪政治而不出于多数国民之自觉，多数国民之自动，惟日仰望善良政府，贤

人政治，其卑屈陋劣，与奴隶之希冀主恩，小民之希冀圣君贤相施行仁政，无以异也……共和立宪而不出于多数国民之自觉与自动，皆伪共和也，伪立宪也，政治之装饰品也，与欧美各国之共和立宪绝非一物。

——摘编自陈独秀《吾人最后之觉悟》（1916年）

(1) 根据材料，概括陈独秀关于实现民主政治的主张。（6分）

(2) 根据材料并结合所学知识，简评陈独秀关于实现民主政治的主张。（9分）

47. (15分) 20世纪的战争与和平

材料

早在1910年，俄国科学家就发现了放射性现象。1941年4月，苏联驻纽约的情报机构向国内报告，西方最著名的物理学家正在讨论铀具有的巨大军事意义，其后苏联著名物理学家摩尔恰托夫被任命为发展核计划的学术负责人。1943年4月，来自全苏的著名专家开始了研制工作。

1945年8月，苏联国防委员会通过决议，着手研制原子武器，以打破美国的垄断。斯大林对摩尔恰托夫说：“请说出您需要的一切帮助，您不会遭到拒绝的。”苏联部长会议成立了直属部长会议的管理总局负责研制工作。

参加这项工作的人员达数十万之多，一位参与者写到：“我们能够团结一致，首先是给我们提供了相当优越的科学工作条件。其次，是内心的感觉，即击败法西斯德国后，我们同最强大敌人的对抗仍没有结束。”1949年8月，苏联一枚原子弹试爆成功。

——摘编自（俄）亚·维·菲利波夫《俄罗斯现代史》

(1) 根据材料并结合所学知识，概括苏联制定和实施原子武器研制计划的背景。（5分）

(2) 根据材料并结合所学知识，说明苏联原子武器研制成功的条件和在当时历史条件下的积极作用。（10分）

48. (15分) 中外历史人物评说

材料

19世纪70年代，德国统一后，资本主义经济迅速发展，一系列的社会问题随之出现，工业生产中的伤亡事故频繁。工人生活和健康状况不断恶化。与此同时，工人阶级的力量迅速壮大，工人运动日益高涨。1878年，俾斯麦政府强迫帝国议会通过了《非常法》，对深受工人拥护的社会民主党进行严厉的镇压。在《非常法》实行的12年里，许多社会民主党党员被监禁和驱逐，大量拥护社会民主党的工人被解雇。大批报刊、出版物及工人组织被查禁或取缔。

俾斯麦政府也通过立法为工人提供社会保障。自1883年起，俾斯麦政府相继颁布了《疾病保险法》《事故保险法》《老年人与伤残人保险法》，为工人及其家属、工伤者提供医疗保障。同时也为老年人和伤残者提供养老金和津贴。

(3) ——摘编自孙炳辉、郑寅达《德国史纲》

(1) 根据材料并结合所学知识，概括卑斯麦政府颁布《非常法》的历史背景。(6分)

(2) 根据材料并结合所学知识，指出卑斯麦对工人运动采取的基本政策并加以评析。(9分)