

绝密★启封前

## 2015 年普通高等学校招生全国统一考试 文科综合（北京卷）

本试卷共 15 页，共 300 分。考试时长 150 分钟。考生务必将答案答在答题卡上，在试卷上作答无效。考试结束后，将本试卷和答题卡一并交回。

第一部分（选择题 共 140 分）

本部分共 35 小题，每小题 4 分，共 140 分。在每小题列出的四个选项中，选出最符合题目要求的一项。

本部分共 35 小题，每小题 4 分，共 140 分，在每小题列出的四个选项中，选出最符合题目要求的一项。

从太白山的北麓往上，越上树木越密越高，上到山的中腰再往上，树木则越稀越矮。待到大稀大矮的境界。繁衍着狼的族类，也居住了一户猎狼的人家（引自贾平凹《太白山记》。太白山为秦岭主峰，海拔 3767 米）。据此，回答第 1、2 题。

1. 太白山

- A、北麓为亚热带常绿阔叶林带
- B、北坡山中腰降水量比山麓少
- C、又密又高的树木在针叶林带
- D、树木大稀大矮处为稀树草原

2. 如果过度猎狼，将会

- ①、造成山区生物多样性减少
- ②、增加山区的环境承载力
- ③、导致不良消费观念的形成
- ④、破坏可持续发展的公平性

A. ①②

B. ②③

C. ③④

D. ①④

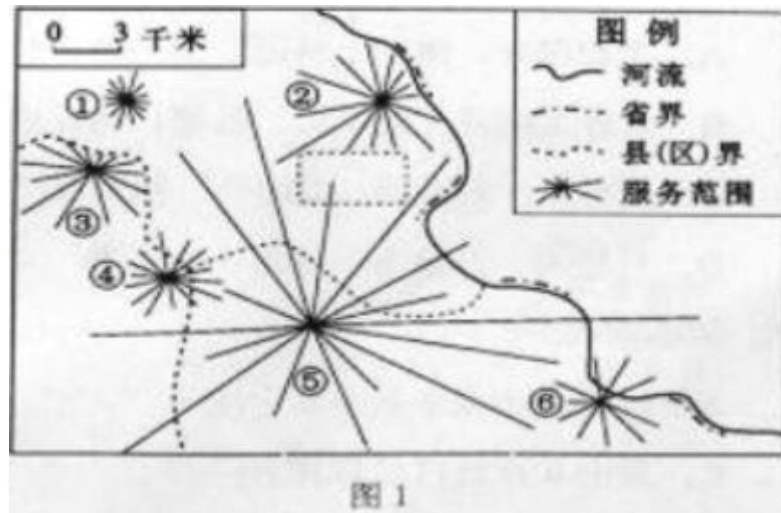


图 1

图 1 为某地公共设施的服务范围示意图。读图，回答第 3 题。

3. 图中最有可能为博物馆、乡（镇）行政机构、集贸市场依次是

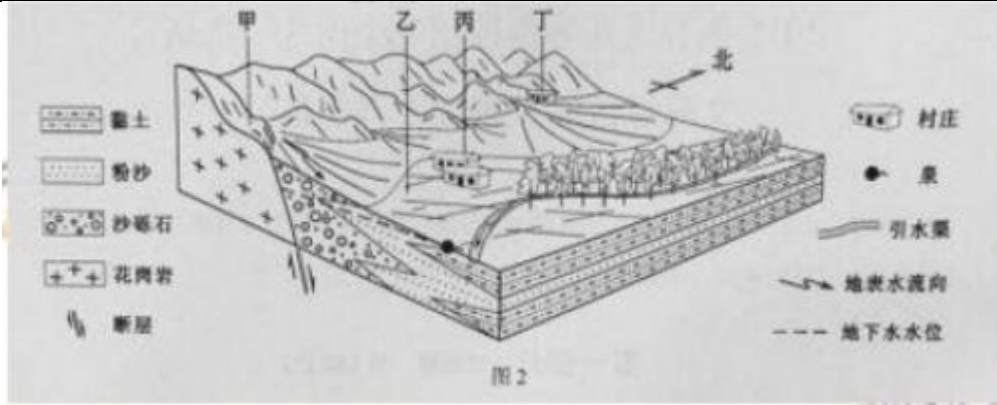
A. ⑥①②

B. ⑤③⑥

C. ③②④

D. ①④⑤

图 2 为华北某地具备示意图，读图，回答第 4、5 题



4、图中

- A、甲地陡峻，喀斯特地貌典型
- B、乙地低平，泥石流灾害频发
- C、丙村比丁村土层深厚
- D、丁村比丙村地下水埋藏浅

5、图示地区

- A、地势西高东低、南高北低
- B、山前平原受外力侵蚀作用明显
- C、洪积扇面积差异取决于降水量
- D、渠水通过蒸发环节参与水循环

2014年11月7日至12日APEC北京会议放假期间，河南省针对北京游客实行景区门票减免优惠。

据此，回答第6—8题

6、该优惠政策有助于

- A、游客对旅游目的地进行选择
- B、提升当地旅游资源价值
- C、降低游客交通与游览用时的比值
- D、提高旅游服务设施等级

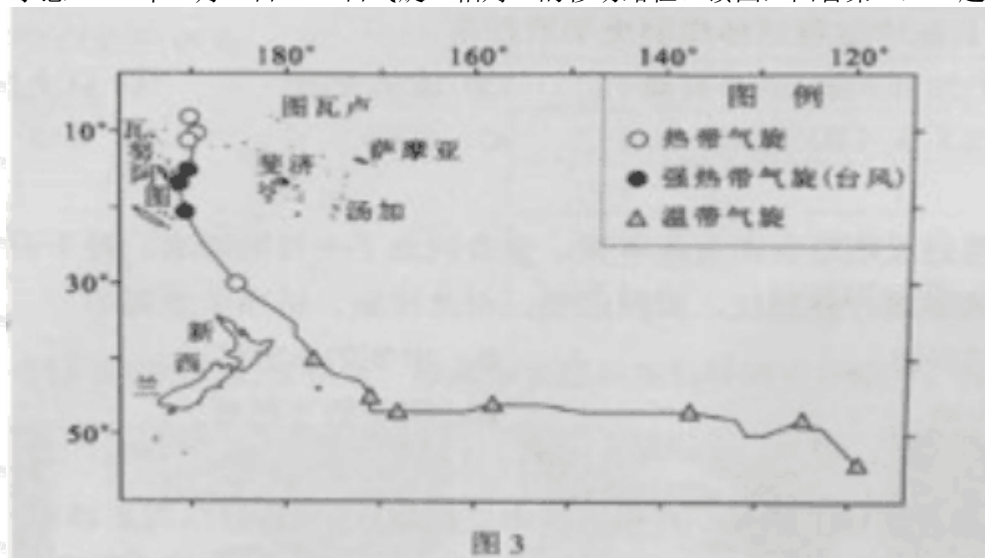
7、下述景区组合中，旅游资源多样性最丰富的是

- A、大相国寺、清明上河图、禹王谷、铁塔公园
- B、太行大峡谷、红旗渠、殷墟、马氏庄园
- C、老君山、鸡冠洞、龙峪湾、抱犊寨
- D、八里沟、万仙山、秋沟、齐王寨

8、放假期间

- A、时值我国立冬到小雪之间
- B、太阳直射点向赤道移动
- C、黄山6点前日出东北方向
- D、南极大陆极夜范围扩大

图3示意2015年3月9日—22日气旋“帕姆”的移动路径。读图，回答第9、10题




9、“帕姆”

- A、生成于西北太平洋热带洋面
- B、气流呈顺时针方向旋转
- C、移动路径受控于西北漂流
- D、自东向西穿过日界线

10、该气旋

- A、标志当地进入台风多发季节
- B、引发滑坡、赤潮等次生灾害
- C、造成的灾情可以用 GPS 滥测
- D、对瓦努阿图的危害最大。

图 4 为某网上商城通过大数据分析绘制的“城市牵挂”示意图。由于迁出人口比例较高，甲地网购收货量中，从异地下订单的寄达商品所占比例最高，从而成为 2014 年全国最受异地牵挂的城市。读图，回答第 11 题。



11、据图可推断，甲地人口迁出比例

- A、北方地区比南方地区高
- B、直辖市比省级行政中心高
- C、珠江三角洲比四川盆地高
- D、内陆城市比沿海城市高

12. “苟无事迹，虽圣人不能作《春秋》，苟不知其事迹，虽以圣人读《春秋》，不知所以褒贬。”《四库全书总目》中这段话体现的史学原则是

- ①秉笔直书
- ②言必有据
- ③论从史出
- ④以小见大

A.①② B.②③ C.①③ D.②④

13.某朝官员王鏊通过贿赂企图兼任宰相。皇帝同意了王鏊的请求，并下诏“鏊可兼宰相”。时任给事中的李藩行使职权，驳回诏书。由此推断，给事中隶属于

- A.唐朝的门下省
- B.宋朝的枢密院
- C.明朝的内阁
- D.清朝的军机处

14、唐代长安的商业店铺主要集中在东西两市，按规定，“诸行自有正铺者，不得于铺前更造偏铺。”南宋都城中的商业活动散布于城内各处，据记载约有“四百四十行”，上述材料可以佐证，南宋时期

- A、私营商业已居主导地位
- B、坊市制度已经瓦解
- C、商业发展已超过农业
- D、资本主义萌芽已出现

15、明朝中后期，王阳明学说在中国士大夫中流行。朝鲜来华使者对此不理解，认为“阳明敢肆己意，谤辱朱子，实斯文之罪人也”。结合所学判断，下列选项正确的有

- ①朝鲜使者以程朱理学为正宗
- ②王阳明心学超越了理学范畴

③王阳明与朱熹观点明显不同

④王阳明心学是对儒学的叛逆

- A. ①②      B. ②③      C. ①③      D. ②④

16. 太平天国提倡“剪辮蓄发”，认为当时人的发饰“坏先人之服冕，是使中国之人忘其根本也”。辛亥革命期间，革命党人认为“欲除满清之藩篱，必先去满清之形状”，提倡“剪辮易服”。二者均希望通过变革发饰（ ）

- A.与西方文明相对接 B.号召推翻清朝统治  
C.提倡民主自由思想 D.表明各自宗教信仰

17.近代某全国性咨询议政机构获准成立后，上呈公文，请求将北京原用于科举考试的贡院改为其办公地。公文中有“仰慕天恩，准予改拨”等语。该公文应出现于（ ）

- A.洋务运动时期 B.戊戌变法时期  
C.预备立宪时期 D.中华民国时期

18. 表一摘引了一步人物传记的目录，根据所学判断，表中空白处应该是

表一

目录	
二十	指导敌后抗战和《论持久战》
二十三	新民主主义的理论
三十	
三十二	全面内战爆发以后
四十	筹建新中国

- A. 五四大潮的洗礼      B. 长征      C. 上井冈山      D. 重庆谈判

19. 以下是四幅新中国不同时期的宣传画。该画中主题体现的时间先后顺序，排列正确的是





- A. ①②③④      B. ②③①④      C. ③①②④      D. ④②③①

20.1521年，德国威登堡的一家作坊印制了很多幅对帧木板画。其中一幅的左侧是基督跪在地上为门徒洗脚；右侧是高高在上的教皇伸出脚让跪在地上的信徒亲吻。这幅图意在

- A. 抨击罗马教廷      B. 推销“赎罪券”  
C. 反对宗教改革      D. 倡导宗教宽容

21.对于美国《独立宣言》在大革命前法国的反响，有学者评论说：宣言中的学说来自哪里并不重要。无论是来自卢梭，还是洛克（英国启蒙思想家），法国读者一定能在《独立宣言》的下述文字中看到法国哲人们的思想：“人人生而平等，他们都被造物主赋予了某些不可转让的权利……”结合所学判断，下列选项正确的是

- ①法国读者不了解洛克和卢梭的学说  
②《独立宣言》与洛克和卢梭的思想无关  
③法国社会中的等级制观念已经动摇  
④天赋人权思想已在大西洋两岸传播
- A. ①③      B. ②③      C. ①④      D. ③④


22.1845年，美国国会通过一项法案：禁止总统在未经国会同意拨款的前提下授权建造海上缉私船。总统约翰·泰勒否决了该法案，但国会推翻了总统的否决。根据美国宪法，随后（ ）

- A. 这项法案将会自动生效      B. 国会将自行建造缉私船  
C. 最高法院可废除该法案      D. 总统可再次否决该法案

23.1880年，日本政府的一项教育指令称：应利用“古今之画像照片”宣传忠孝精神；与其过分关注高深的理论和外语，不如对农商庶民施以适于生存的实际教育。结合所学判断，该指令（ ）

- A. 试图阻止西方科技的传播      B. 表明忠孝精神已在日本瓦解  
C. 旨在强化日本社会的等级制度      D. 旨在培养掌握现代技能的忠顺臣民

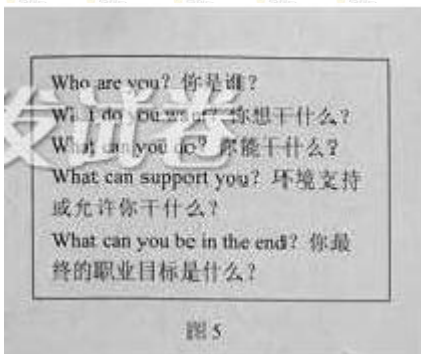
24.这说明在我国古代，人们



- ①认识到了节气与农业生产的客观联系
- ②将节气智慧融入于生产和生活实践中
- ③顺应自然节律，实现了对自然的征服
- ④在实践中获得了对人与自然关系的完整认识

A①②      B①③      C②④      D③④

25, “5W”是职业生涯规划中常用的思考模式(图5)。这一模式启示我们,确定职业生涯规划时



- ①应明确自身兴趣、技能、和价值观
- ②外部因素的支持或干扰具有根本影响
- ③愿望、动机和实现结果之间一致的
- ④要在权衡理想和现实的过程中确立目标

A①②      B①④      C②③      D③④

26, 盘龙藻井变身雨伞, 飞檐角上的瑞兽蹲踞在铅笔上, 朝珠成了时尚耳机……北京故宫博物院一改人们印象中的“正襟危坐”, 以馆藏文物和古典建筑为元素创作了多款热销产品。这说明

- A 文化继承的核心是发掘其经济价值
- B 传统文化的具体内涵需要保持稳定
- C 文化遗产与当代人的生活和审美需求可以对接
- D 应当通过市场运作, 保障公民的基本文化权益

27, ”我最亲爱的孩子啊, 母亲不能用千言万语来教育你, 就用实行来教育你……”抗日战争胜利七十周年之际, 打开尘封的英雄家书, 依然能读到民族和硝烟和苦难, 读到英雄对家人的思念与牵挂, 读到英雄慷慨殉国的悲壮和毅然。英雄家书

- ①激发了人们的爱国情感, 是一种巨大的物质力量
- ②蕴含着深厚的家国情怀, 能滋养人们的精神世界

③凝聚着不屈的民族精神，反映了民族的价值追求

④根源于多元的大众文化，反映了人们的文化需求



图 6 赵-曼烈士家书

A①③

B①④

C②③

D②④



28. 小明爸爸准备参加社区居委会的竞选，他在社区网站上查阅了图 7 所示的问卷调查结果：根据调查结果，适合作为小明爸爸竞选发言要点的是

①组织制定社区文明公约，维护公共环境

②改造社区文体活动场所，用以增设停车位

③开展“邻居节”活动，营造社区和谐氛围

④对非法张贴小广告和私搭乱建行为酌情罚款

A①②

B①③

C②④

D③④

29. 2014 年 8 月，66 名高中生参加了“首届全国青少年模拟政协比赛”，经过调研和论证，撰写并提交了 11 份“提案”。其中，《关于完善中小学公共安全教育体系的提案》和《关于完善网络个人信息安全立法的提案》与 2015 年 3 月由政协委员正式提交给全国政协十二届三次会议。下列表述正确的是

A 撰写“提案”反映了中学生积极履行公民的政治性义务

B 上述过程能增进中学生对我国协商民主的认识和理解

C 有政协委员提交正式提案表明其代替公民行使建议权

D 向政协会议提交正式提案说明政协委员依法履行质询权

30. 全面推进依法治国是实现国家治理体系和治理能力现代化的必然要求。下列表述符合法制精神的是

①“天下之事无大小皆决于上”

②“国王创造法律，而非法律创造国王”

③“法律是治国之重器，良法是善治之前提”

④“一次不公正的审判，其恶果甚至超过十次犯罪”

- A. ①②    B. ①③    C. ②④    D. ③④

31. 图 8 为一组纪念邮票展品，其实最适合归入的主题是



图 8

- A. 中国积极推动发展中国家组建国际组织  
 B. 中国广泛参与亚太国家和地区经济合作  
 C. 中国在政府间国际组织中发挥很重要作用  
 D. 中国努力促进科学文化领域的国际交流

32. 表 2 某篮球俱乐部新赛季球票销售价格表

球票位置	关键场次单价	一般场次单价	套票价格（含全部 20 场）
VIP 区（1-5 排）	500	400	7000
普通区（6-20 排）	300	200	3000

对表 2 理解正确的是

- ①VIP 供给更有限，需求更旺盛，因此单价高于普通区  
 ②关键场次的需求对价格变动的反应程度较大，因此单价高于一般场次  
 ③套票折算的单场平均价格低于各场次单价，有利于提高球票销售总收入  
 ④不同位置的球票是替代品，降低普通区球票的价格会增加 vip 区球票的销售量

- A. ①③    B. ①④    C. ②③    D. ②④

33. 未来几年我国财政收入将由高速增长转向中低速增长，财政支出会呈刚性增长，财政管理要求更规范科学。这种“财政新常态”意味着在保证财政收支大致平衡的前提下，适度增加财政赤字规模。下列政策不会导致财政赤字的增加的是

- A. 扩大营业税改增值税为重点的结构性减税政策适用范围  
 B. 清理、规范、取消多项行政事业性收费项目  
 C. 加大交通、水利等基础设施建设领域关于的政府投资力度  
 D. 盘活政府部门资金存量，提高财政资金运转效率

34. 运用《经济生活》还是判断，下列说法中不能成立的是

- A. 由于林则徐在 1839 年采取禁烟措施，从事鸦片贸易的外国商船只能转航东南亚，致使 1840 年春孟加拉、新加坡等地的鸦片价格暴跌



B.《管子·轻重篇》提出“币重而万物轻，币轻而万物重”，揭示了货币流通量的多寡与货物价格的高低成反比例的规律

C.有统计表明，1700-1900年间，随着营养价值、热量、人均产出更高的土豆在欧洲大陆逐步推广，农村劳动力得以解放，因此，在控制其他因素后，越适宜种植土豆的地区，城市化水平提高越多。

D.有研究认为，工业革命之所以发生在英国，是因为当时英国的工资水平很高，因此蒸汽机等节省人力的发明得以大规模推广，

35.假如经济学家斯密和凯恩斯穿越时空，在A国相遇了，此时A国正陷入经济衰退的低谷。两位经济学家针对该国的困境展开对话



下列哪句话最有可能出自斯密之口

A.政府应该通过倾斜政策鼓励基础产业发展，提升经济的长期竞争力

B.政府应重新评估资源结构，协调资本向比较优势产业流动

C.政府应该整顿金融业，引导有序竞争，降低经济整体风险

D.政府应退出经营领域，消除贸易壁垒，重塑价格机制

36. (36分)北京与河北张家口相邻，地域联系密切。读下图，回答下列问题：



(1) 说明百余年来北京至张家口之间交通运输的变化, 并分析此变化对聚落兴衰的影响。(10分)

2014年7月, 在北京市延庆县召开的第11届葡萄大会上, 延庆与张家口市怀来县签订了葡萄产区合作协议, 打造“延怀河谷, 葡萄酒乡”品牌, 促进区域协同发展。

(2) 简述“延怀河谷”协同发展葡萄产业对区域经济的影响。(10分)

北京市与张家口市联合申办2022年冬奥会。

(3) 概述崇礼作为雪上项目主赛场的气候条件。(8分)

为了改善区域环境质量, 张家口市积极推进能源生产结构调整。

(4) 举例说明张家口市能源生产结构调整的方向和地理条件。(8分)

### 37. (36分) 历史语境中的语言和文化

材料一 汉语是世界上最古老的语言之一。秦汉时期, 汉字形成统一的书写规范。官学、书院、私塾大都使用汉语, 科举考试亦然。魏孝文帝改革将汉语作为“正音”。清朝确立在全国的统治后, 很快将汉语作为官方语言。日本等周边国家的语言也受到汉语影响。

拉丁语最初是古罗马人的语言。公元1世纪, 标准拉丁语形成, 与希腊语等一起成为罗马帝国学校的教学语言。罗马帝国解体后, 拉丁语的日常口语功能逐渐丧失, 成为一种书面语言。17世纪末期以前, 西欧的学术著作大都使用拉丁文撰写, 意大利、西班牙、葡萄牙、法国等在拉丁语的基础上,

发展出自己的民族语言。

(1) 阅读材料一，结合所学，概括上述两种语言文学发展演变的异同。(8分)

材料二 16世纪，英语主要是英格兰人的语言。到18世纪中后期，英语已扩展到英国的殖民地，并在国际商贸活动中广泛使用。二战后，英语逐渐超越其他语言，成为科教领域和众多国际组织的通用语言，被称为语言的“日不落帝国”。

(2) 阅读材料二，分析英语发展成为语言的“日不落帝国”的历史原因。(12分)

材料三 20世纪10年代，《新青年》杂志有过一场汉字存废问题的讨论，主张废除汉字的学者认为：汉字难识难写，不便推广；“新理新事新物之名词，一无所有”；“欲使中国民族成为二十世纪文明之民族；必以废孔学，灭道教为根本之解决，而废记载孔门学说及道教妖言之汉文，尤为根本解决之根本解决。”

近代以来，汉语中出现了大量的新词汇，表3内容为新词汇示例。


表3

创造新词的方式	繁体字	1956年后推行的简体字
音译外来词	沙發、牛頓、布爾什維克	沙发、牛顿、布尔什维克、麦当劳
赋予旧词新涵义	共和、格致學、計學、總統	共和、科学(格致学)、经济学(计学)、总统
其他	西學、洋錢	西学、洋钱、孔子学院

(3) 阅读材料三，结合所学，分析“废汉字”主张提出的时代背景；(6分)以“挑战与应对——一百年来汉语的变迁”为主题，对上表进行解读。(10分)

要求：提取信息充分；总结和归纳准确、完整；解释和分析逻辑清晰。

38、(36分)“众”最初的字形是人们在太阳下共同劳作，在互联网时代，人们的共同劳作有了更多的可能。



材料一 某生物学教授将研究课题开发成一款用氨基酸组装蛋白的游戏，向全球的游戏玩家开放，一个困扰了研究者15年之久的蛋白结构，仅仅10天后就被破解；各领域的专业人士和业余爱好者在百科全书式网站参与贡献内容、修订词条，共同创造和分享海量的知识；百万名网友参与“让爱回家”行

动，筹得 230 个红包和 50 多张回乡机票，帮助近 300 个家庭羊年春节团圆……

(1) 在互联网时代，“我们通过连接把自己变成了一种新的更强大的物种”。你是否赞同这一观点？并用所学的哲学原理说明理由。(10 分)

材料二 借助“众”的力量，互联网时代的商业模式不断创新。北京某校高中生发明了一种可以快速查找物品、有效利用空间的新型智能储物柜，在国际“创客”大赛中获得了大奖，同学们就如何利用互联网将这一科技成果转变成产品，推向市场，提出了如下建议：

在社交网络平台上发布这一科技成果信息，寻找 1000 位联合投资者，为智能储物柜的生产筹集资金。建立论坛，收集来自热心网友和专业人士关于智能储物柜外观设计的个性化方案，并由论坛用户“评头论足”，将点“赞”最多的 5 个设计方案作为备选方案。

接受网络预订，根据网络预订单的数量决定哪种设计方案投入批量生产。

(2) 运用《经济生活》相关知识，分析同学们建议的合理性，并提出一条补充建议。(14 分)

材料三 互联网时代，“众”的力量在社会公共领域发挥着日益重要的作用。互联网给公民参与提供了广阔的平台，也给政府治理模式的创新带来了新的机遇。公民通过社交网络为交管部门提供道路拥堵信息；民间环保组织依据政府公开的环境数据绘制“污染地图”，帮助政府监管污染企业；市政府通过门户网站向市民征集建议；城管部门请商户和市民通过网络平台为执法人员的工作打分……公民与政府在越来越多的社会公共领域中形成合力。



首都之窗人民建设征集

网页

(3) 结合材料，运用《政治生活》相关知识，以“互联网时代的公民与政府”为题，写一篇短评。(12 分) 要求：观点明确，逻辑清晰，论述合理，200 字左右。

39、(10 分)“一方水土，一方文化，这里是北京。”北京拥有丰富的文化资源，行走在这片古老而又充满活力的土地上，亲近文化遗产，探访名人故居，走入创新基地……我们会获得丰富的文化体验。某校开展“漫游北京”文化实践活动，围绕“灿烂文明”“红色记忆”“魅力创新”三大主题向同学们征集活动意向。请完成下表。

文化实践活动	
主题：	_____ (从“灿烂文明”“红色记忆”“魅力创新”中任选其一)
地点：	_____
(地点应与主题相符，可从以下地点中选择其一，也可另选其他)	
备选地点：国家博物馆、元大都城垣遗址公园、长城、京西古道、焦庄户地道战遗址、鲁迅	



40. (24分) 丝绸之路东起中国西安, 西至埃及亚历山大。



陆上丝绸之路是东西方交往的重要通道, 分为东西两段, 东段主要在今中国境内, 其正式开通源自张骞通西域, 汉与西域的交往主要通过河西走廊; 南北朝时期, 由于河西走廊被割据政权占据, 南北朝与西域的交往主要通过今青海境内的青海道; 唐朝统一后, 河西走廊又恢复了在丝绸之路中的主导地位; 11世纪西夏崛起, 青海道和河西走廊被切断, 北宋只能向北渡过黄河, 再由河套地区向西进入西域。从元朝起, 河西走廊成为中西方交往的稳定通道。

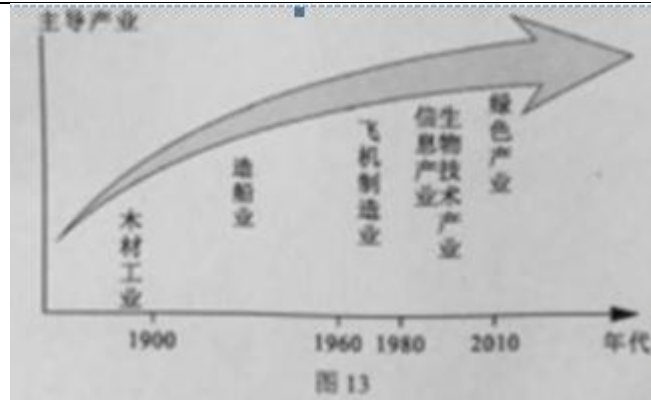
- (1) 阅读上图和上述材料, 从中概括古代陆上丝绸之路的历史特点 (6分)。
- (2) 在上图的甲、乙两地中任选其一, 说明主要农作物及其分布, 并阐述农业发展的自然地理条件。(12分)

茶叶曾经是沿着古丝绸之路走出去的“明星”产品。今天, “一带一路”战略的实施使我国茶叶企业看到了新的发展契机。“一带一路”沿线的俄罗斯是世界最大的茶叶进口国, 对中国茶格外青睐, 尤为偏好高品质的红茶。近年来对绿茶的需求也在逐渐增加, 位于大别山茶区的某茶叶集团目前主要外销大众茶, 市场以中亚, 中东地区为主, 该企业希望抓住“一带一路”战略带来的机遇, 打开俄罗斯的茶市场。

- (3) 结合材料, 就该企业如何抓住“一带一路”战略带来的机遇提出两条方法论建议。(6分)

41. (18分) 世界博览会通过展示科学技术成果, 预示世界发展方向。1962年世博会在美国西雅图举行。

随着产业的不断升级, 人类生活发生着巨大变化, 下图是西雅图主导产业变化过程示意图。



(1) 归纳西雅图产业转型过程中主导区位因素的变化。(8 分)

1957 年，苏联发射了人类历史上第一颗人造地球卫星。1961 年，苏联宇航员加加林成为第一个遨游太空的人，美国随即提出阿波罗登月计划。1962 年，在西雅图举办了主题为“太空时代的人类生活”的博览会。

(2) 阅读材料，结合所学，指出人类进入“太空时代”的国际政治背景；(4 分) 列举 20 世纪 60 年代以来我国取得的航天成就。(6 分)